

ATIVIDADES EXTRACLASSE

1. Leia o texto e responda às perguntas.

Reciclagem de lixo

Muitos municípios já estão fazendo o reaproveitamento do lixo através de um processo chamado **reciclagem de lixo**.

Na reciclagem do lixo, primeiro se faz a separação dos diversos materiais que formam o lixo.



Depois de separados, os diferentes materiais têm destinos diferentes. Assim, papéis, latas e vidros, são reaproveitados pela indústria para produção de outros papéis, outros plásticos, outras latas e outros vidros.

Restos de comidas, cascas de frutas, ossos, folhas, etc. são formados adubos. Esses mesmos materiais, quando aterrados, produzem um tipo de gás, já usado como combustível de ônibus que circulam dentro das cidades.



Lixo

Todos os dias em nossas casas, sobram coisas que não são aproveitadas. Que nome damos a tudo aquilo que não é mais aproveitado em nossas casas?

Marque um X nos nomes de materiais que viram lixo em sua casa:

- () restos de comida
- () partes não aproveitadas de frutas
- () partes não aproveitadas de verduras
- () papel higiênico usado
- () latas e plásticos
- () papéis
- () cascas de ovos
- () pó de café usado
- () filtro de papel usado

Dentre os materiais reciclados, quais vão apodrecer mais facilmente e ficar com mau cheiro?

Marque um X no que se faz com o lixo em sua casa:
O lixo é:

- () colocado em lata com tampa
- () colocado em lata sem tampa
- () colocado em saco plástico
- () queimado
- () enterrado
- () jogado em um terreno baldio.



Imagine que o lixo de uma casa, formado principalmente por restos de comida, foi colocado em uma lata sem tampa.

Você acha certo colocar lixo em lata sem tampa? Por quê?

2. Coloque mais um r nas palavras.

muro
mur ____ o


era
er ____ a

careta
car ____ eta

caro
car ____ o

tora
tor ____ a

moro
mor ____ o



3. Complete as frases com as palavras em destaque.

bezerro – derrubadas – carreta

a) A _____ corria muito.




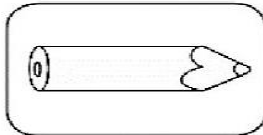
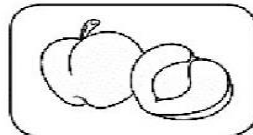
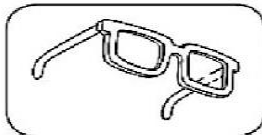
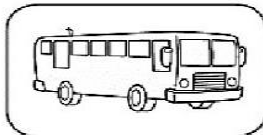
b) O _____ tomou todo o leite.

c) No terreno havia muitas árvores _____.

4. Separe em sílabas as palavras abaixo e escreva o número de sílabas.

beterraba	be – ter – ra – ba	4
marreco		
barrigudo		
enxurrada		
jarra		
verruga		

5. Escreva os nomes dos desenhos nos lugares adequados.



ACENTO AGUDO	ACENTO CIRCUNFLEXO

Quanto à posição da sílaba tônica.

- Quanto à posição da sílaba tônica as palavras classificam-se em:
 - a) Oxítonas: quando a sílaba tônica é a última da palavra; *ma-ra-cu-já, va-ta-pá, mu-ru-ci.*
 - b) Paroxítonas: quando a sílaba tônica é a penúltima sílaba da palavra; *já-ne-la, his-tó-ria, po-lí-cia, ca-ne-ta.*
 - c) Proparoxítonas: quando a sílaba tônica é a antepenúltima sílaba da palavra; *sí-la-ba, tô-ni-ca, gra-má-ti-ca, ma-te-má-ti-ca.*

6. Pinte as sílabas tônicas das palavras abaixo.

PARDAL CAFÉ LÁPIS

 LÊNÇOL SAPATO

 LÂMPADA FUNIL

ÁRVORE NOITE JARDIM

 GOSTAVA PÁSSARO

 CAJÁ

ANIMAL ESTRELA NARIZ

 RÉGUA JUÍZO

 APONTADOR

FERRAMENTA PÚBLICO

7. Acentue as palavras e classifique-as quanto a posição da sílaba tônica.

Acentue as palavras abaixo e marque um 'X' na classificação correta quanto a sílaba tônica.

	OXÍTONAS	PAROXÍTONAS	PROPAROXÍTONAS
PETALA			
FABRICA			
TRICO			
PAGINA			
PANTANO			
CHAPEU			
CHINES			
MATEMATICA			
PORTUGUES			



8. Peça para a mamãe ou o papai ditar algumas frases para você.

DITADO




- 1 _____
- 2 _____
- 3 _____
- 4 _____
- 5 _____
- 6 _____
- 7 _____
- 8 _____
- 9 _____
- 10 _____

ATIVIDADES EXTRACLASSE

O bairro onde moro

O bairro onde moro
É pura animação...
Casas, ruas e pessoas
E muita agitação!

Padeiros, barbeiros
E até um sacolão...
Supermercados e lixeiras
Sempre à disposição!



1 – Enumere a segunda coluna de acordo com a primeira:

(A) Bairros residenciais

() Aqueles nos quais prevalecem as residências; com pequenos comércios para facilitar a vida das pessoas, como padarias, açougues etc...

(B) Bairros comerciais

() Ficam mais afastados dos centros das cidades. Neles são encontradas as indústrias de alimentos, indústrias têxteis, de materiais de construção, produtos farmacêuticos, etc.

(C) Bairros industriais

() Prevalecem as lojas, são movimentados em razão do grande número de lojas que possuem.

2. Coloque V para verdadeiro e F para falso.

() Bairro é uma parte da cidade.

() Todo bairro tem um nome e uma história.

() Em um bairro não é necessário ter ruas asfaltadas e nem água tratada.

() Em um bairro há grupos de pessoas que formam diferentes comunidades.

3. Ligue fazendo a correspondência associando os grupos que formam as comunidades.



A família

Moradores de uma rua ou bairro.

Pessoas que frequentam uma igreja.

4. Pinte os quadrinhos correspondentes aos locais de recreação que existem em seu bairro.



Quadra de esportes



praça



Clube



parque



campo de futebol



cinema

5. Observe as imagens e numere corretamente.

(1) PAISAGEM DA ZONA RURAL

(2) PAISAGEM DA ZONA URBANA



()

()

6. Marque com um X os itens que são necessários para que um bairro seja adequado para a vida das pessoas.



Hospital público

Escola pública

Barulho

Água encanada

Ruas asfaltadas

Esgoto a céu aberto

Trânsito pesado

Correios

Mercado


Posto policial

Banca de jornal

Lixo amontoado nas ruas

PONTOS DE REFERÊNCIA

Os pontos de referência são elementos que nos orientam, para chegarmos a diferentes lugares, que não conhecemos ainda.



Aninha mora perto da praça, sua casa fica ao lado do Shopping, em frente a casa do Daniel.

Circule na imagem a casa da Aninha.

Desenhe sua casa e alguns pontos de referência próximos a ela.

